

Шифр участника 11-01-01

**ЗАДАНИЯ ДЛЯ ОБУЧАЮЩИХСЯ**  
Время выполнения заданий – 60 минут  
Максимальное количество баллов – 100 баллов

**Задание 1.** Выберите верный ответ из предложенных вариантов. Правильные

ответы нанесите в таблицу. Максимальный балл за задание – 10 баллов.

1.1. Выберите один верный ответ из предложенных вариантов.

(0,5 балла за каждый правильный ответ, максимальный балл за задание 1.1. – 5 баллов).

1. В какой город был приглашен князь Рюрик:

- а) Киев ☒ б) Новгород в) Изборск г) Ладога

2. К какому веку относится правление Владимира Мономаха:

- а) XII б) XI ☒ в) XIII г) IX

3. Битва между монголами и русскими в 1380 г. получила название:

- а) Ледовое побоище ☒ б) стояние на Угре

- в) Мамаево побоище г) битва на Калке

4. Какое событие произошло в 1147 г.?

- а) Битва на р. Калке б) Невская битва

- в) первое упоминание о Москве г) Ледовое побоище

5. Какое событие произошло позже других:

- а) Крещение Руси б) Куликовская битва

- в) Невская битва г) призвание варягов

6. Первая русская летопись называлась:

- а) «Повесть временных лет» б) «Слово о полку Игореве»

- в) «Слово о погнби земли русской» г) «Задонщина»

7. Провиние Невский князь Александр Ярославович получил за:

- а) проведение переписи населения в Новгороде б) победу над крестоносцами

- в) поездку к хану Орды за ярлыком ☒ г) разгром шведского отряда

8. Центральным органом управления в Русском государстве XV в. был (и):

- а) приказы б) наместники в) волостели г) боярская дума

9. В каком году было введено христианство на Руси:

- а) 880г. б) 882г. ☒ в) 988г. г) 980г.

Шифр участника 11-01-01

10. К какому веку относится правление Ярослава Мудрого:

- а) XII б) XI ☒ в) XIII г) IX

Ответ:

| №    | 1                                   | 2                                   | 3                                   | 4                                   | 5                                   | 6                                   | 7                                   | 8                                   | 9                                   | 10                                  |
|------|-------------------------------------|-------------------------------------|-------------------------------------|-------------------------------------|-------------------------------------|-------------------------------------|-------------------------------------|-------------------------------------|-------------------------------------|-------------------------------------|
| 1.1. | <input checked="" type="checkbox"/> | <input checked="" type="checkbox"/> | <input checked="" type="checkbox"/> | <input checked="" type="checkbox"/> | <input checked="" type="checkbox"/> | <input checked="" type="checkbox"/> | <input checked="" type="checkbox"/> | <input checked="" type="checkbox"/> | <input checked="" type="checkbox"/> | <input checked="" type="checkbox"/> |

1.2. Верно ли утверждение? Ответ оформите в виде таблицы (0,5 балла за каждый

правильный ответ, максимальный балл – 5 баллов).

1. Конинг Рюрик и его братья согласились на условия славянских вождей, и вскоре

Рюрик прибыл в Ладогу и «сел» в ней «дядеть», Синеус устроился на западе в Изборске, а

Трувор на севере, в Белозере.

2. Отцом хана Батлы был Чингис-хан.

3. Андрей Рублев был учеником Феофана Грека.

4. При Иване III утверждается главный символ самодержавной России – герб с

двуглавым орлом.

5. Иван Калита впервые добился в Орде права собирать дань с русских земель

самостоятельно, без баскаков.

6. Церковь Покрова Богородицы на Нерли был построен в память одного из сыновей

Андрея Боголюбского.

7. Полоцке - это летняя экспедиция князя побору данн.

8. Борис и Глеб были убиты в междоусобной борьбе старшим братом Святополком.

9. Главным событием правления Василия II стало свержение монгольского ига.

10. В середине 1340-х гг. страшная беда надвинулась на Русь – чума, «черная смерть».

Ответ:

| №    | ВЕРНО                               | НЕВЕРНО                             |
|------|-------------------------------------|-------------------------------------|
| 1.2. | <input checked="" type="checkbox"/> | <input checked="" type="checkbox"/> |

Задание 2. Определите и запишите принцип образования каждого логического

ряда, найдите и выпишите логичный элемент в каждом ряду. Объясните, почему логичный

элемент является логичным. Максимальный балл за задание – 3 балла (0,5 балла за логичный

элемент и 0,5 балла за объяснение)



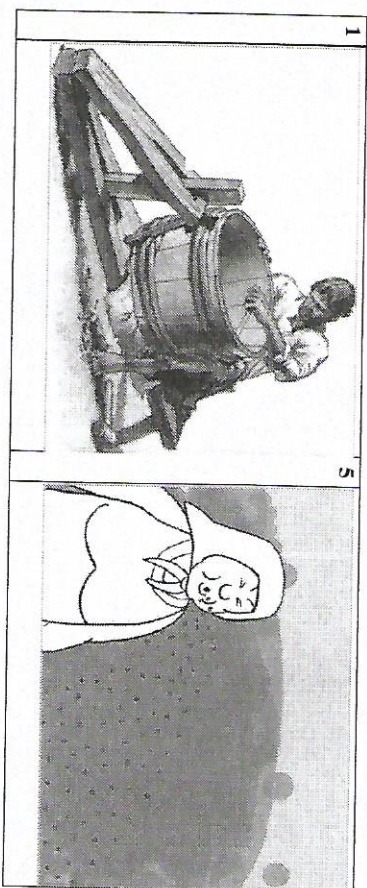
Шифр участника И-07-01

- 2.1. Выгича, поляне, кривичи, балты, радимичи  
2.2. Дажьбог, Стрибог, Водан, Перун, Ярило  
2.3. Гончарный круг, плут, каменный топор, ткацкий станок


Ответ:

- 2.1. Лишнее - радимичи, потому что это не князь, а язычник  
работ на Руси.  
2.2. Лишнее - Водан, потому что этого бог не являлся  
славянским.  
2.3. Лишнее - плут, потому что это не предмет для  
работы.

Задание 3. Рассмотрите изображения на рисунках старинные профессии Древней Руси. Запишите под каждым номером название профессии и дайте её определение (объясните, чем занимался представитель данной профессии). Максимальный балл за задание - 16 баллов. За каждый правильный ответ - 1 балл.



Шифр участника И-07-01





Шифр участника 11-03-01

Ответ:

| № | Профессия (занятие) | Определение          |
|---|---------------------|----------------------|
| 1 | Мещеряк             | крестьянин           |
| 2 | Князь               | Самодержец           |
| 3 | Князь               | Самодержец           |
| 4 | Боярин              | Служащий князя       |
| 5 | Мельник             | работник на мельнице |
| 6 |                     |                      |
| 7 |                     |                      |
| 8 |                     |                      |

Задание 4. Текст с пропусками. Заполните пропуски в тексте. Ответ оформите в виде перечня элементов под соответствующими номерами. Максимальный балл за задание – 15 баллов. За каждый правильный ответ – 1 балл.

В лето 6576 \_ (1 - год от Рождества Христова). Пришли иноплеменики на Русскую землю \_ (2 - название этноса/народы) многие. Князь великий киевский \_ (3 - имя) же и братья его и \_ (4 - имя) и младший \_ (5 - имя) вышли против них на реку \_ (6 - название). И с наступлением ночи они пошли друг на друга. За грехи наши напустил Бог на нас поганых, и бежали русские князья. Когда князь киевский с сыном бежали в \_ (7 - город), а брат в \_ (8 - город), люди, участвовавшие в походе, прибежали в город и собрали \_ (9 - термин/эпизод) на торгу, и послали к князю, сказали ему: "Вот, поганые рассыпались по всей земле, дай нам, князь, \_ (10 - вид снаряжения) и коней, мы еще побьемся с ними". Князь же этого не послушал. И люди пошли в торгу и остановились около двора брячислава и сказали: "Пойдем освободим дружину свою из \_ (11 - место заключения)". И люди закричали, и освободили дружину и сына князя пощюко \_ (12 - имя). Двор же киевский разграбили, [захватив] бесчисленное множество золота и серебра... Князь же киевский бежал в \_ (13 - государство) ... В лето 6577 \_ (14 - год от Рождества Христова). Пошел князь киевский со своим родственником, князем \_ (15 - имя) вернуть свой стол...

Шифр участника 11-03-01

Ответ:

|   |            |    |                       |
|---|------------|----|-----------------------|
| 1 | Альби      | 9  | Норманское завоевание |
| 2 | Мерв       | 10 | Арабы                 |
| 3 | Самодержец | 11 | Самодержец            |
| 4 | Боярин     | 12 | Самодержец II         |
| 5 | Мельник    | 13 | Мельник               |
| 6 | Князь      | 14 | Альби                 |
| 7 | Мельник    | 15 | Норман                |
| 8 | Самодержец |    |                       |

Задание 5. Установите соответствие между деятелями отечественной и всемирной истории и событием, участниками или свидетелями которого они были. Максимальный балл за задание – 5 баллов. За каждый правильный ответ – 1 балл.

| Российская история   | Всемирная история                                                                       |
|----------------------|-----------------------------------------------------------------------------------------|
| 1. Рюрик             | А. Нормандское завоевание Англии                                                        |
| 2. Ольга             | Б. Разделение христианской церкви на Восточную (православную) и Западную (католическую) |
| 3. Ярослав Мудрый    | В. Первый крестовый поход                                                               |
| 4. Изяслав Ярославич | Г. Распад империи франков                                                               |
| 5. Святополк         | Д. Образование Священной Римской империи                                                |

Ответ:

|   |   |   |   |   |
|---|---|---|---|---|
| 1 | 2 | 3 | 4 | 5 |
| Г | Б | В | Д | Б |

Задание 6. Внимательно рассмотрите карту и выполните предложенные задания. Максимальный балл за задание – 12 баллов.

1. Назовите государство, территория которого обозначена на схеме цифрой «1» (2 балла).
2. Укажите название войны, события которой отображены на территории государства, обозначенного на схеме цифрой «2». Укажите годы этой войны (4 балла).
3. Назовите государство, территория которого обозначена на схеме цифрой «3» (2 балла).



Шифр участника 11-07-01

- 6.4. Назовите национальную героиню государства, обозначенного на схеме цифрой «2», деятельность которой связана с событиями, обозначенными на карте (2 балла).
- 6.5. Укажите, какой известный процесс происходил в тот же период, когда происходила война, событием которой посвящена схема, в течение 69 лет на территории области, обозначенной на схеме цифрой «4» (2 балла).

Ответ:

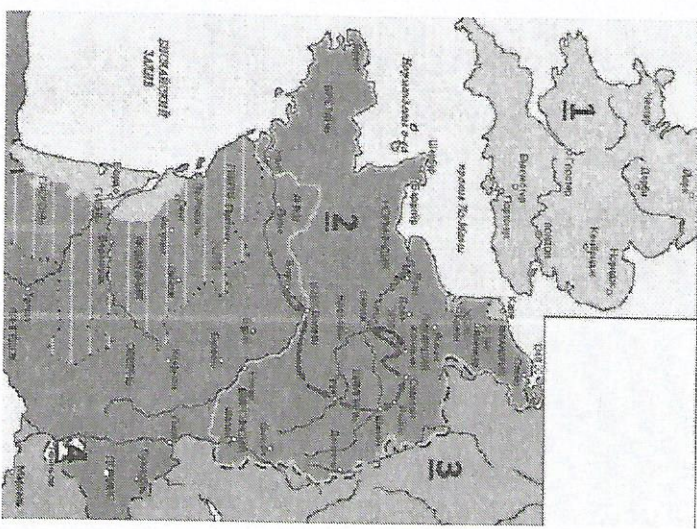
6.1. Анна-царица Романовна (Анна)

6.2. Война Бородинская, 1812-1812 гг.

6.3. Война

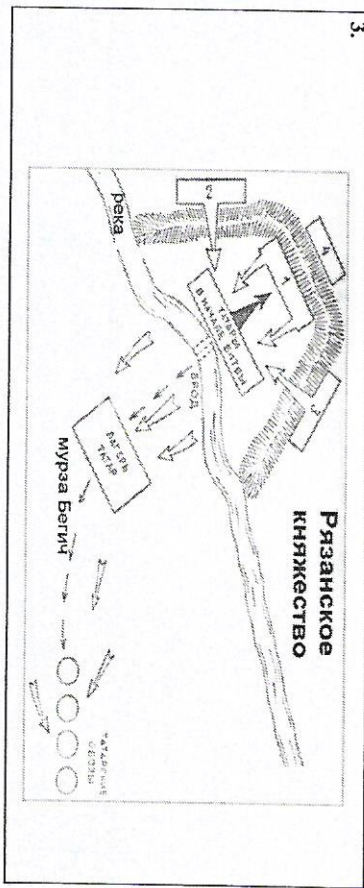
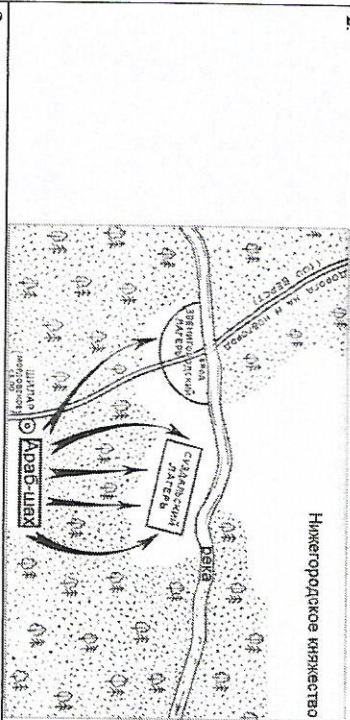
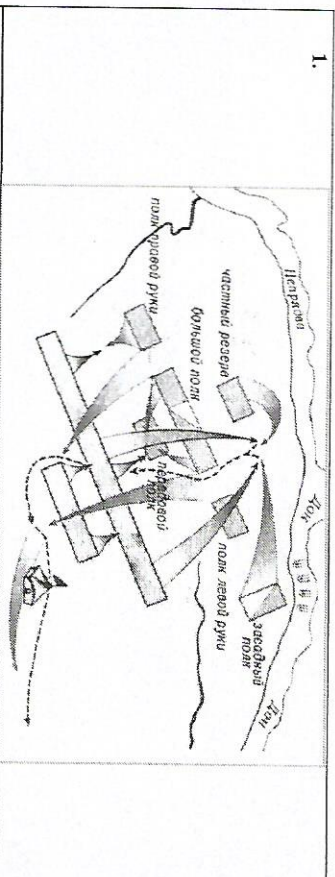
6.4. Война

6.5. Война



Шифр участника 11-07-01

- Задача 7. Рассмотрите схемы представленные ниже принадлежати к одной исторической эпохе и ответьте на вопросы. Максимальный балл за задание – 12 баллов.





Шифр участника И-07-01

7.1. Определите исторические события, показанные на каждой из представленных схем 1-3 (3 балла).

7.2. Напишите дату каждого из них (3 балла).

7.3. Назовите государство, с войсками которого сражались русские воины в указанных битвах (1 балл).

7.4. Укажите не менее трех участников с русской стороны события, обозначенного на схеме под № 1 (3 балла)

7.5. Перечислите не менее двух литературных произведений, посвященных историческому событию, отраженному на схеме под № 1 (2 балла)

Ответ:


| №    | 1 схема                    | 2 схема                    | 3 схема        |
|------|----------------------------|----------------------------|----------------|
| 7.1. | Осада Очакова              | Битва на реке Калуга       | Полтава        |
| 7.2. | 1702                       | 1709                       | 1730           |
| 7.3. | Полтава - битва за Украину |                            |                |
| 7.4. | Войска Петра I             | Войска Алексея Михайловича | Войска Петра I |
| 7.5. | Полтава - битва за Украину |                            |                |

Задание 8. Посмотрите на архитектурные сооружения и укажите: 1) название архитектурных сооружений (1 балл); 2) время их создания (с точностью до половины столетия) (1 балл); 3) имя князя, при котором они были построены (1 балл); 4) место их расположения (1 балл). Максимальный балл за задание – 16 баллов. За каждый правильный ответ – 1 балл.

Ответ:

| № | Название        | Время создания | Имя князя       | Место    |
|---|-----------------|----------------|-----------------|----------|
| 1 | Успенский собор | XV в.          | Мстислав        | Новгород |
| 2 | Успенский собор | XV в.          | Дмитрий Донской | Москва   |
| 3 |                 |                |                 |          |
| 4 |                 |                |                 |          |

Шифр участника И-07-01



Задание 9. Используя все приведенные слова и словосочетания, составьте определения исторических понятий. Назовите эти понятия. Слова и словосочетания не могут использоваться дважды. Вы можете добавлять предлоги, изменять слова по падежам и пр. Максимальный балл за задание – 3 балла. За каждый правильный ответ – 1 балл (в 9.1-9.2. определение + понятие).

9.1. Глава, управление, Древний, выборный, в, городской, Новгород.

9.2. Высокий, хан, в, ордынский, покоренные, ранг, земли, представитель, чиновник.

9.3. Напишите имя одного из исторических деятелей европейской истории – современника Государя всея Руси Ивана III (1 балл)



Шифр участника 11-07-04

Ответ:

9.1. Понятие: \_\_\_\_\_

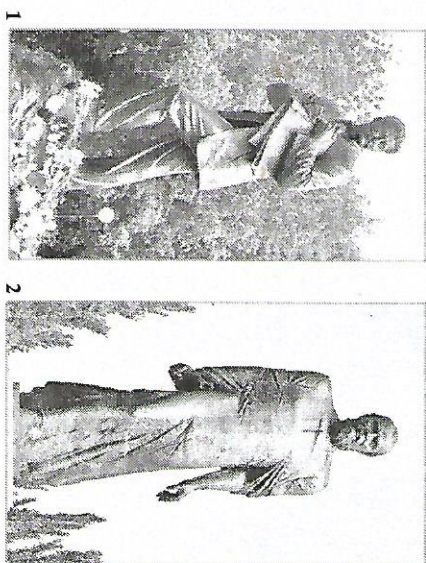
Определение: \_\_\_\_\_

9.2. Понятие: \_\_\_\_\_

Определение: \_\_\_\_\_

9.3. \_\_\_\_\_

Задание 10. Посмотрите на изображения и заполните таблицу. Максимальный балл за задание – 8 баллов. За каждый правильный ответ – 1 балл.



|                                                             | 1 изображение | 2 изображение                    |
|-------------------------------------------------------------|---------------|----------------------------------|
| Кому посвящен памятник?                                     |               | Ленину                           |
| Чем знаменит этот человек?                                  |               | лидером в революционном движении |
| Как он связан с историей города Омска?                      |               | находясь в ссылке в Омске        |
| Какие объекты в городе Омске названы именем этого человека? |               | улицы, парк, стадион.            |

14.07.2024  
11-07-04  
11-07-04